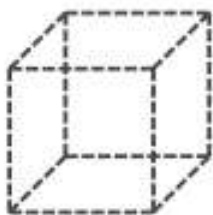


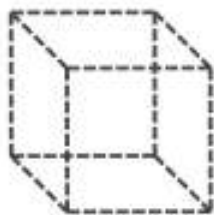
## 11.1. Zobrazení a popis krychle a kvádru – procvičování

1. Zvýrazni plnou čarou viditelné hrany krychle tak, aby vzniklo zobrazení krychle.

náhled zprava



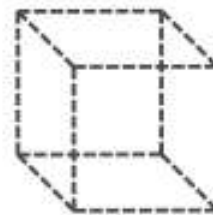
podhled zprava



podhled zleva



náhled zleva



2. Na obrázcích je zobrazen kvádr, který nemá jednu stěnu (je dutý). Vyznač viditelné a neviditelné hrany.

bez horní podstavy



bez pravé boční stěny



bez přední stěny



bez zadní stěny



3. Zobraz krychli  $a = 4\text{cm}$

4. Zobraz kvádr s rozměry  $a = 6\text{cm}$ ,  $b = 4\text{cm}$  a  $c = 5\text{cm}$